

السؤال الأول: أختَر الإجابة من بين البدائل المعطاء


تبلغ طول سواحل عمان حوالي 1) :

أ- 3163 كلم ب- 3164 كلم ج- 3265 كلم د- 3166 كلم

الوادي الذي يقسم سلسلة جبال حجر عمان الى قسمين 2) :

أ- وادي الجزري ب- وادي سمائل ج- وادي الحوض د- وادي الحوقين

الصورة التالية توضح 3) :



أ- كهف الهوته ب) جبل سمحان

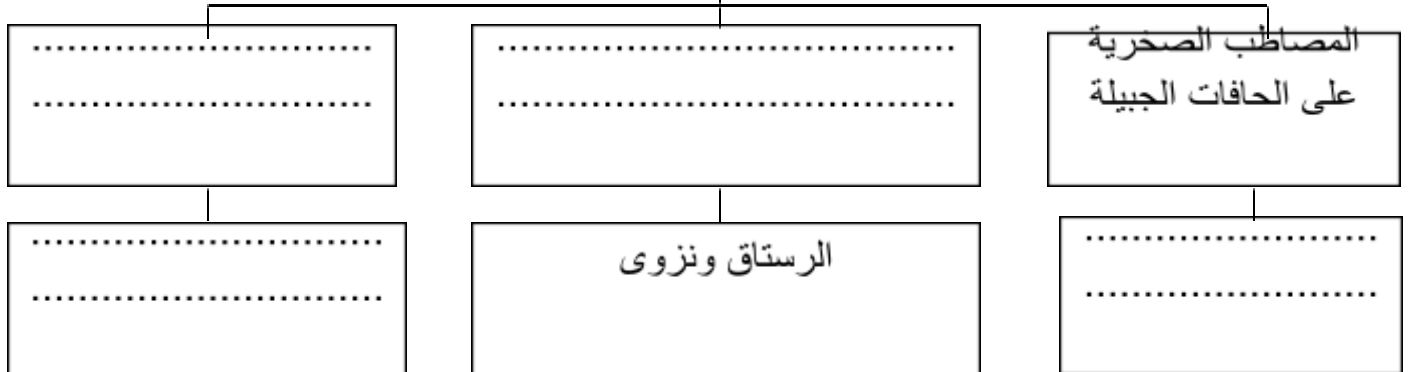
ج- كهف المرنيف د- حديقة الصخور

السؤال الثاني: أجب على الأسئلة الآتية

1) اشرح كيف أسهم الموقع الجغرافي لعمان بالتحكم في شبكة التجارة والملاحة في المحيط الهندي.

2) أكمل الشكل الذي يوضح أنواع الواحات الداخلية في سلطنة عمان

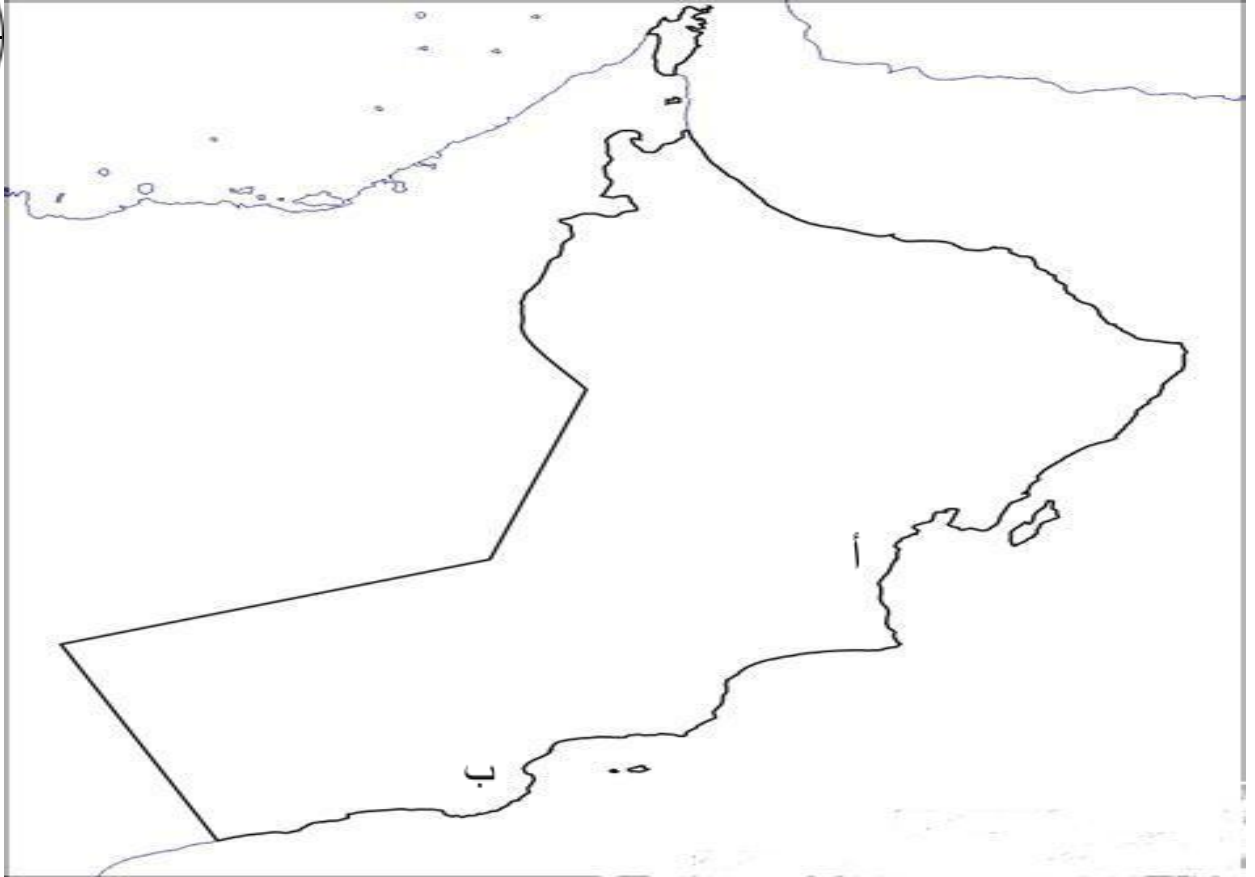
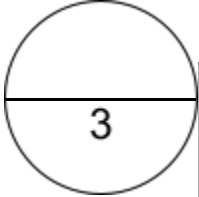
الواحات الداخلية في سلطنة عمان



وضح الفرق بين (3)

.....	الأخوار الدائمة
.....	الأخوار المؤقتة

السؤال الثالث:



ادرس الخريطة ثم أجب على الاسئلة الآتية (1)

أ- لون على الخريطة امتداد سهل الباطنة

ب- سم الصحراء (منطقة) المشار إليها بالرمز (أ)

ج- أذكر نوع من أنواع الحيوانات الموجود في المحمية المشار إليها بالرمز (ب)

تحدث عن سبحة أم السميم (2)

.....

.....

.....